



面積をしらべよう！！

面積は、何平方センチメートル(cm^2)ですか？なお、すべての角度は直角
(90°)です。



答え：_____.

面積は、何平方センチメートル(cm^2)ですか？なお、すべての角度は直角
(90°)です。



答え：_____.


面積をしらべよう！！

面積は、何平方センチメートル(cm^2)ですか？なお、すべての角度は直角(90°)です。



答え：_____.

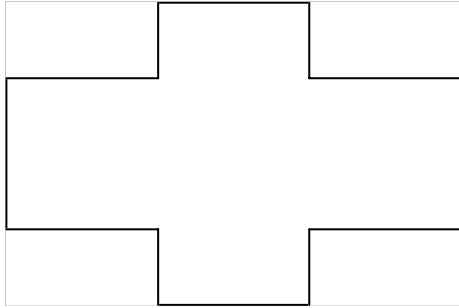
面積は、何平方センチメートル(cm^2)ですか？なお、すべての角度は直角(90°)です。



答え：_____.


面積をしらべよう！！

面積は、何平方センチメートル(cm^2)ですか？なお、すべての角度は直角(90°)です。



答え：_____.

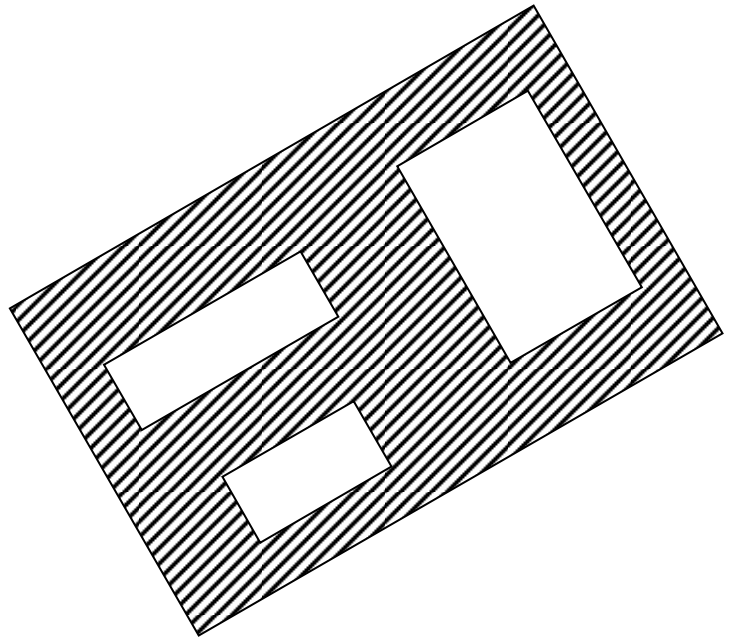
縞模様の面積は、何平方センチメートル(cm^2)ですか？なお、すべての角度は直角(90°)です。



答え：_____.

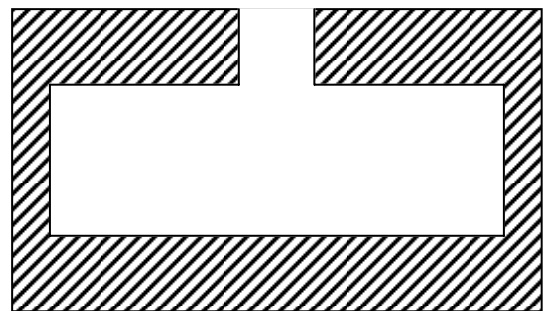
面積をしらべよう！！

しまもよう めんせき なんへいほう
縞模様の面積は、何平方センチメートル (cm^2) ですか？なお、すべての
かくど ちよっかく
角度は直角 (90°) です。



答え：_____.

めんせき なんへいほう
面積は、何平方センチメートル (cm^2) ですか？なお、すべてのかくど ちよっかく
角度は直角
(90°) です。



答え：_____.