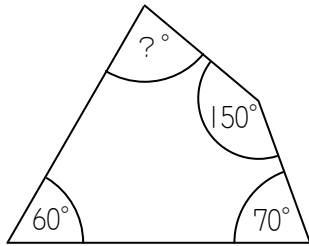


分度器を使わずに角度をしらべよう！

角度は何度ですか？



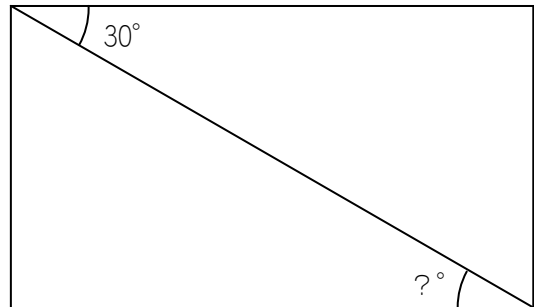
答え：\_\_\_\_\_.

角度は何度ですか？なおこれは、  
長方形です。



答え：\_\_\_\_\_.

角度は何度ですか？なおこれは、  
長方形です。



答え：\_\_\_\_\_.

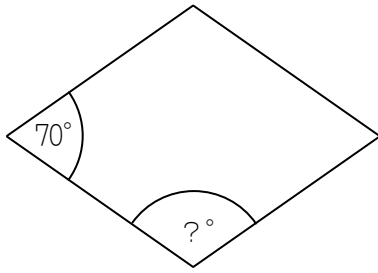
角度は何度ですか？なおこれは、  
平行四辺形です。



答え：\_\_\_\_\_.

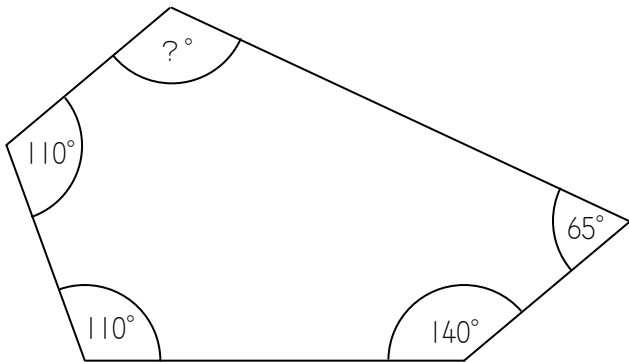
分度器を使わずに角度をしらべよう！

角度は何度ですか？なおこれは、  
平行四辺形です。



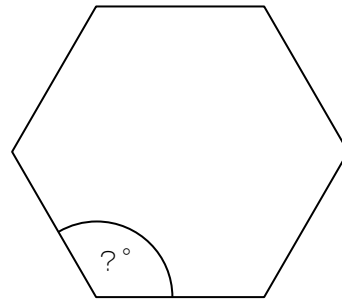
答え：\_\_\_\_\_.

角度は何度ですか？



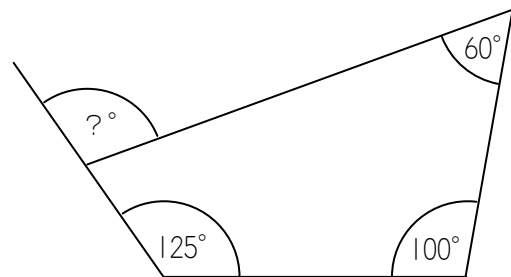
答え：\_\_\_\_\_.

角度は何度ですか？なおこれは、  
正六角形です。



答え：\_\_\_\_\_.

角度は何度ですか？



答え：\_\_\_\_\_.